

名 前



- 1 図1、図2を参考に、あとの設問に答えなさい。なお、図1は一部白抜きになっています。また、図2のA～Fはイギリス、イタリア、オランダ、ギリシャ、ドイツ、フランスのいずれかを表しています。

図1

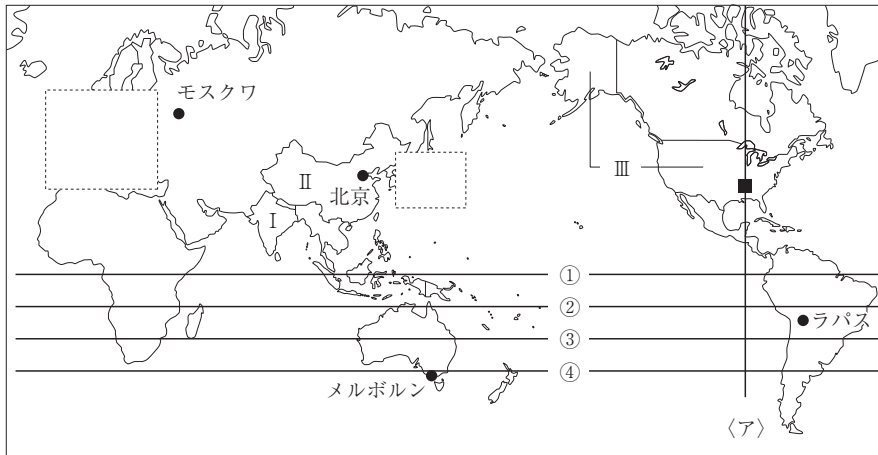
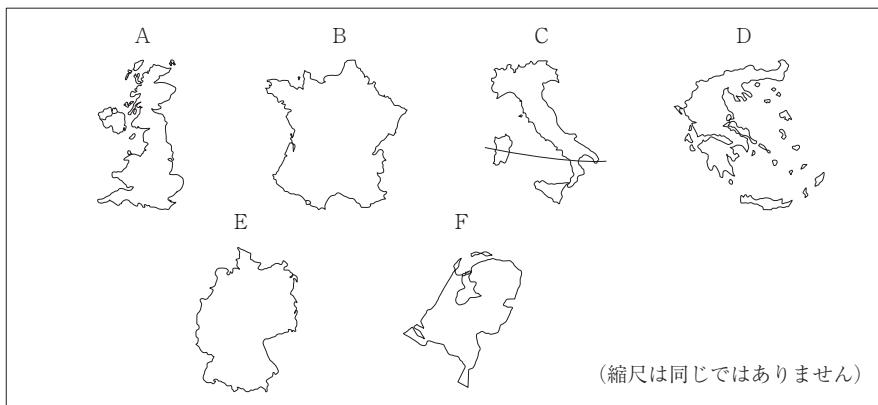
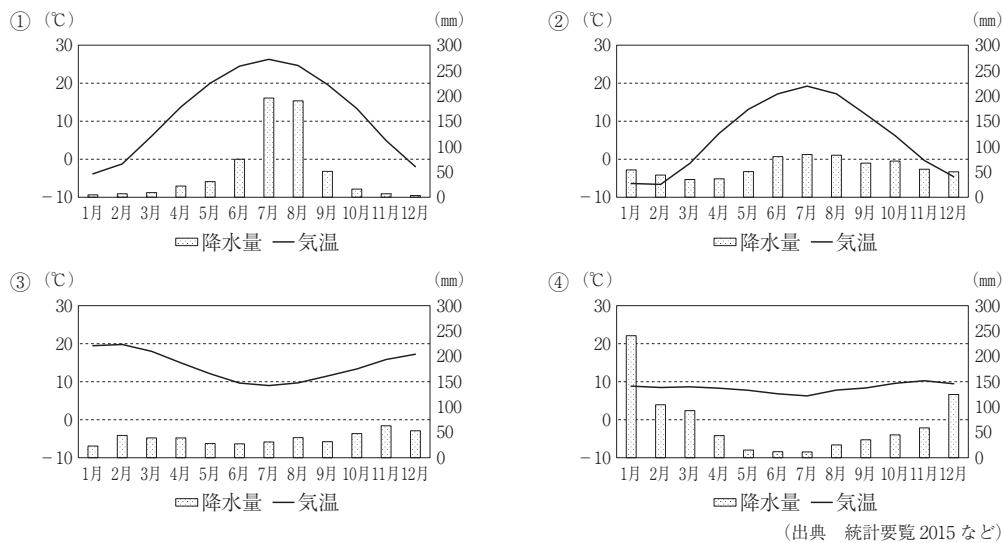


図2



- 問1 赤道を示しているものを、図1中の①～④のうちから一つ選びなさい。()
- 問2 図1中の<ア>は西経90度の経線を示しています。日本が2月10日午後1時の時、この線上にある■の都市の現地時間として正しいものを、次の①～④のうちから一つ選びなさい。なお、日本の標準時は東経135度として計算しなさい。()
- ① 2月9日午後10時
 - ② 2月10日午前4時
 - ③ 2月10日午後10時
 - ④ 2月11日午前4時
- 問3 雨温図①～④は、図1中の北京、メルボルン、モスクワ、ラパスのいずれかの都市のものです。ラパスの雨温図として正しいものを、次の①～④のうちから一つ選びなさい。()

名 前



問4 図1中のIの国について、問いに答えなさい。

- (1) 次の文章X、Yについて、この国に関するできごとの正誤の組み合わせとして正しいものを、あとの①～④のうちから一つ選びなさい。()

X 紀元前 3000 年ごろ、^{くさびがた もじ}楔形文字が発明されて粘土板に刻まれた

Y 第一次世界大戦後、ガンディーの指導によって^{どくりつうんどう}独立運動が展開された

- ① X 正 Y 正 ② X 正 Y 誤 ③ X 誤 Y 正 ④ X 誤 Y 誤

- (2) この国では、国内で生産される綿花を原料とする綿工業が発展しています。次の①～④は小麦、米、茶、綿花のいずれかの国別生産量の割合を示したものです。綿花にあてはまるものを、次の①～④のうちから一つ選びなさい。()

	国名	%
1 位	中国	18.0
2 位	I	14.1
3 位	アメリカ合衆国	9.2
4 位	フランス	6.0
5 位	ロシア	5.6

①

	国名	%
1 位	中国	26.4
2 位	I	20.5
3 位	アメリカ合衆国	13.9
4 位	パキスタン	8.5
5 位	ブラジル	6.3

②

	国名	%
1 位	中国	28.4
2 位	I	21.2
3 位	インドネシア	9.6
4 位	ベトナム	6.1
5 位	タイ	5.3

③

	国名	%
1 位	中国	35.3
2 位	I	20.8
3 位	ケニア	7.7
4 位	スリランカ	6.8
5 位	トルコ	4.7

④

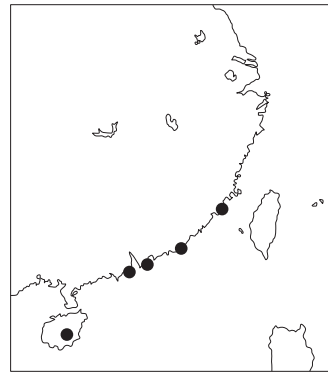
(出典 統計要覧 2015)

名 前

問5 図1中のⅡの国について、問いに答えなさい。

- (1) この国はめざましい経済発展を遂げ、「世界の工場」とも呼ばれています。図3はそのさきがけとなった地域を示しています。これらの地域では税制を優遇するなどして、外国企業を積極的に誘致してきました。これらの地域は何と呼ばれていますか。その名称を漢字4字で答えなさい。()

図3



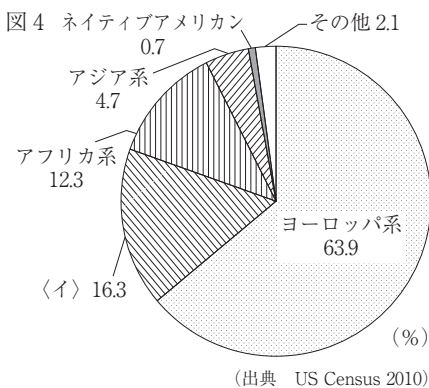
- (2) この国と日本との関係について述べた文として誤っているものを、次の①～④のうちから一つ選びなさい。()

- ① 足利義満が、日明貿易をおこなった
 ② 平清盛が、宋との貿易に力を入れた
 ③ 藤原道長が、遣唐使の廃止を提案した
 ④ 厩戸皇子（聖徳太子）が、遣隋使を派遣した

問6 図1中のⅢの国について、問いに答えなさい。

- (1) 図4はこの国の人種・民族構成を示したものです。図4中の〈イ〉はスペイン語を話す移民とその子孫です。この人々は何と呼ばれていますか。その名称を、カタカナで答えなさい。()

図4 ネイティブアメリカン



- (2) この国と日本との関係について述べた文として誤っているものを、次の①～④のうちから一つ選びなさい。()

- ① 江戸時代末期、ペリーが来航し、日本に開国を求めた
 ② 1951年、鳩山一郎内閣は、この国との間に安保条約を結んだ
 ③ 昨年、この国のオバマ前大統領がはじめて被爆地広島を訪れた
 ④ 第二次世界大戦後、マッカーサーが来日し、日本の民主化を推し進めた

問7 図2中のAの国について、問いに答えなさい。

- (1) この国では世界ではじめて産業革命が起こりました。これに関して述べた文として誤っているものを、次の①～④のうちから一つ選びなさい。()

- ① 都市に人口が集中して生活環境が悪化した
 ② 資本主義という新しい経済のしくみができた
 ③ 電力が機械の動力として使われるようになった
 ④ 女性や子どもたちの長時間労働が問題となった

- (2) この国では他国にさきがけて人権思想がめばえました。この国が、「人の支配」から「法の支配」へとかわる過程として正しいものを、次の①～④のうちから一つ選びなさい。()

- ① ピューリタン革命→名誉革命→権利の請願→権利の章典
 ② ピューリタン革命→権利の章典→名誉革命→権利の請願
 ③ マグナ=カルタ→権利の請願→権利の章典→名誉革命

名 前



④ マグナ=カルタ→ピューリタン革命→名誉革命→権利の章典

問8 図2中のBの国について、問いに答えなさい。

(1) この国では1789年におこった革命で「人権宣言」が発表されました。「人権宣言」にあたるものを、次の①～④のうちから一つ選びなさい。()

- ① 「あらゆる主権^{しゅけん}の原理は、本質的に国民に存する」
- ② 「国王は、議会の承認^{しやうにん}なく法律を停止することはできない」
- ③ 「われわれは、次の真理を当然のものと認める。すべての人は平等^{びんとう}に造られている」
- ④ 「経済活動^{けいぎくどう}の秩序は、すべての人に人間たるに値^{あた}する生活を保障する目的をもつ正義の原則に適合^{てきごう}しなければならない」

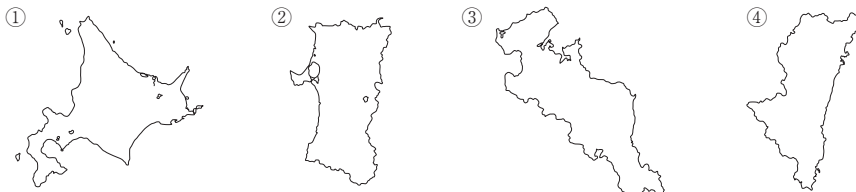
(2) この国は、失業率が10.5%（出典 2015年 IMF）と高い水準になっており、政府はいつもの景気回復を目指しています。一般的には、このように失業率が高い状況は不況と見なされます。不況時に起こる事柄^{ことがら}として誤っているものを、次の①～④のうちから一つ選びなさい。

()

- ① リストラが進められる
- ② インフレーションが進む
- ③ 生産が縮小し、利潤^{りじゆん}は減少する
- ④ 所得が低くなり、消費は縮小する

問9 図2中のCの国について、問いに答えなさい。

(1) Cの国を通過している線は北緯40度の緯線^{ほくい}を示しています。この緯線が通過する日本の都道府県として正しいものを、次の①～④のうちから一つ選びなさい。ただし、縮尺は同じではありません。()



(2) この国では14世紀ごろ、人間らしい個性や自由を求める動きがおこりました。この動きは、古代のギリシャやローマの文化を模範^{もはん}として復興^{ふっこう}させようとしたことから何と呼ばれていますか。その名称を、カタカナで答えなさい。()

(3) この国について述べた文として正しいものを、次の①～④のうちから一つ選びなさい。

()

- ① 地中海に面している
- ② 世界最長の河川が流れている
- ③ シリコンバレーと呼ばれる地域がある
- ④ 夏は一日中、太陽の沈まない白夜^{しず びやくや}となる

問10 図2中のDの国について、問いに答えなさい。

(1) この国では、早くから民主政治が行われていました。民主政治の意味について分かりやすく説明しているものに、1863年当時、アメリカ大統領だったリンカンの演説があります。その演説の一部を示した下の文中の空欄〔ウ〕に入る語句を、5字で答えなさい。()

人民の、〔ウ〕、人民のための政治

名 前

/

(2) 2020年には、東京でオリンピックが開催されます。オリンピックは、この国で開催された古代オリンピックに起源をもちます。オリンピックはスポーツの祭典であると同時に、平和の祭典とも言われています。日本では日本国憲法で平和主義を掲げています。日本国憲法に定められている内容として誤っているものを、次の①～④のうちから一つ選びなさい。()

- ① 国防のために、陸海空軍その他の戦力を保持することを認めている
- ② 日本国民は、平和のうちに生存する権利を有することを確認している
- ③ 政府の行為によって再び戦争の惨禍が起こることのないように決意している
- ④ 武力の行使は、国際紛争を解決する手段としては、永久にこれを放棄している

問11 図2中のEの国について、問いに答えなさい。

(1) この国に関連するできごと〈エ〉～〈キ〉を古い順に並べたとき3番目にくるものを、あとの①～④のうちから一つ選びなさい。()

- 〈エ〉 ベルリンの壁が崩壊した
 - 〈オ〉 日本、イタリアと三国同盟を結んだ
 - 〈カ〉 ベルサイユ条約で海外の植民地をすべて失った
 - 〈キ〉 オーストリアを支援して、セルビアを相手に戦争を開始した
- ① 〈エ〉 ② 〈オ〉 ③ 〈カ〉 ④ 〈キ〉

(2) この国では1919年、ワイマール憲法が制定され、社会権が世界で初めて規定されました。日本国憲法にも基本的人権の一つとして社会権が保障されています。日本国憲法に保障された社会権として誤っているものを、次の①～④のうちから一つ選びなさい。()

- ① 勤労者の団結する権利
- ② 裁判所において裁判を受ける権利
- ③ 能力に応じて、等しく教育を受ける権利
- ④ 健康で文化的な最低限度の生活を営む権利

問12 図2中のFの国について、問いに答えなさい。

(1) この国では、干拓地の排水のための動力として風車が多く使われていました。これは一年を通して同じ方向に吹く風を利用したものです。この風の名称を、ひらがなで答えなさい。

()

(2) この国と、鎖国を行っていた時期の日本との貿易について述べた文として誤っているものを、次の①～④のうちから一つ選びなさい。()

- ① 貿易は、長崎の出島で行われた
- ② 日本からの輸出品は、銀や海産物が中心であった
- ③ 勘合を与えられた豪商や大名だけが、貿易を行った
- ④ 日本への輸入品は、中国産の生糸や絹織物が中心であった

問13 ヨーロッパではEUが結成され、多くの国々が加盟しています。これに関して、問いに答えなさい。

(1) EUについて説明した文として誤っているものを、次の①～④のうちから一つ選びなさい。

()

- ① 東ヨーロッパの国々も数多く加盟した
- ② すべての加盟国で共通通貨であるユーロが導入された

名 前



- ③ 加盟国間では国の行き来が自由にできるようになった
- ④ アメリカ合衆国などの大国に対抗^{たいこう}するためにつくられた
- (2) 昨年、EU からの脱退^{だつたい}について国民にその是非^{ぜ ひ}を問い、離脱を決めた国が、図 2 中の A～F に含まれています。その国を、次の①～⑥のうちから一つ選びなさい。()
- ① A ② B ③ C ④ D ⑤ E ⑥ F
- (3) 表 1 はヨーロッパの国々の食料自給率(%)を示したものです。表 1 中の〈ク〉は図 2 中の B～E のいずれかの国です。〈ク〉にあてはまる国として正しいものを、あとの①～④のうちから一つ選びなさい。()

表 1

	小麦	いも類	野菜類	果実類	肉類	乳製品
A	99	85	43	5	67	76
〈ク〉	194	124	72	62	100	116
F	25	210	303	32	175	178

(出典 2012 年度食料需給表)

- ① B ② C ③ D ④ E