

名前

/

1 江戸時代末から明治時代にかけての経済に関して、以下の問いに答えなさい。

(1) 日本が開国し各国と結んだ通商条約は、日本の経済に大きな影響を与えました。これに関する説明文として誤っているものを次のア～エから1つ選び、記号で答えなさい。()

ア 外国から安価な綿織物が輸入されたため、国内の生産地は打撃を受けた。

イ 輸出のため貿易商人により生糸が買い集められ、国内では品不足になった。

ウ 幕府が金の海外流出をふせぐ目的で粗悪な貨幣をつくったので、物価が下落した。

エ 開国当初、アメリカは南北戦争の影響でアジアへの進出がしばらく止まったため、貿易相手国はイギリスが中心であった。

(2) 日本の産業革命は、日清戦争・日露戦争の2つの戦争の前後を契機に進行しました。次のA～Dのうち、日清戦争に関係の深い説明文を2つ選び、その組み合わせとして正しいものを下のA～カから1つ選び、記号で答えなさい。()

A 戦争で得た賠償金などを用いて、北九州に官営の八幡製鉄所を建設した。

B 戦争の前に綿織物業が大阪で盛んになるなど、軽工業が発達した。

C 戦争のあと、政府は軍事上の理由などから主な鉄道を国有とした。

D 戦争による増税などで苦しい生活をがまんしてきた国民は、講和条約や政府への不満を高め、日比谷焼き打ち事件が発生した。

ア A—B イ A—C ウ A—D エ B—C オ B—D カ C—D

名前

/

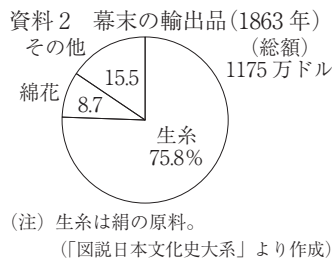
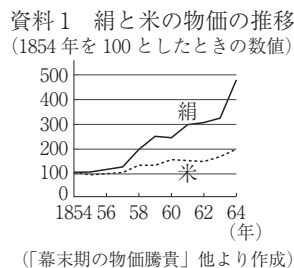
2 えりさんは、江戸時代末期から昭和時代までの歴史人物カードを作成した。次はその一部である。

(1)~(8)の問いに答えなさい。

<p>カードA</p> <p>ペリー (1794 ~ 1858)</p>  <p>アメリカの軍人 日米和親条約</p>	<p>カードB</p> <p>福沢諭吉 (1834 ~ 1901)</p>  <p>明治時代の思想家 『学問のすゝめ』</p>	<p>カードC</p> <p>伊藤博文 (1841 ~ 1909)</p>  <p>明治時代の首相 大日本帝国憲法</p>	<p>カードD</p> <p>陸奥宗光 (1844 ~ 1897)</p>  <p>明治時代の外務大臣 領事裁判権撤廃</p>
<p>カードE</p> <p>原敬 (1856 ~ 1921)</p>  <p>大正時代の首相 初の本格的政党内閣</p>	<p>カードF</p> <p>芥川龍之介 (1892 ~ 1927)</p>  <p>小説家 『羅生門』</p>	<p>カードG</p> <p>スターリン (1879 ~ 1953)</p>  <p>ソ連の指導者 第二次世界大戦</p>	<p>カードH</p> <p>吉田茂 (1878 ~ 1967)</p>  <p>昭和時代(戦後)の首相 サンフランシスコ平和条約</p>

(1) カードAに関連して、ペリーの来航をきっかけに日本は開国し、のちに日米修好通商条約により外国との自由貿易が始まった。次の資料1はそのころの国内における絹と米の物価の推移、資料2は幕末の輸出品である。米に比べ、絹の物価が上昇したのはなぜか。資料2を参考にし、「貿易商人が、」の書き出しに続けて、15字以上25字以内で書きなさい。

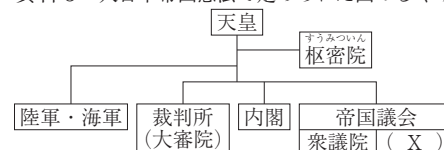
貿易商人が、



(2) カードBに関連して、福沢諭吉が『学問のすゝめ』で記した内容について述べた文として最も適当なものを、ア~エから1つ選び、記号を書きなさい。()

- ア ルソーの思想の影響を受け、人民主権について記した。
- イ 労働者の過酷な状況を批判し、労働運動について記した。
- ウ 吉田松陰の影響を受け、尊王攘夷について記した。
- エ 封建制を強く批判し、人間の平等について記した。

(3) カードCに関連して、右の資料3は、大日本帝国憲法で定められた国のしくみ法で定められた国のしくみである。資料3中の(X)に当てはまる語句を、漢字3字で書きなさい。()



名前

/

(4) カード D に関連して、日本とイギリスとの関係の変化について、次のえりさんとあいさんとの会話の [] に当てはまる内容を、国名を 1 つ用いて書きなさい。

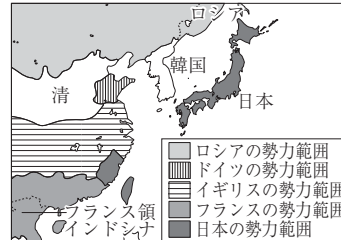
()

えり：日本とイギリスとの関係は、1894 年の領事裁判権撤廃や、1902 年の日英同盟締結で大きく変わったわね。なぜ、日英関係が友好的になったのかな？

あい：1895 年の三国干渉の経緯を考えたり、資料 4 を見たりするとその理由がわかるかもしれないね。

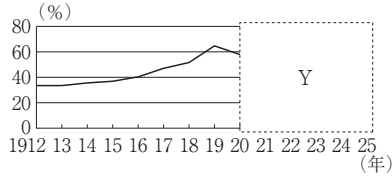
えり：日本とイギリスは、 [] という目的が一致したことが考えられるね。

資料 4 列強の中国分割 (20 世紀初め)

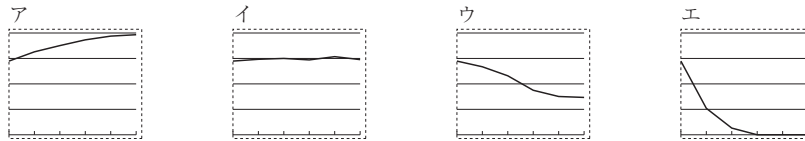


(5) カード E に関連して、右の資料 5 は、大正時代の、日本の国家財政における軍事費の割合の推移を示したものである。ワシントン会議が行われた 1921 年以降、グラフはどのように変化するか。資料 5 中の [Y] に当てはまるグラフとして最も適当なものを、ア～エから 1 つ選び、記号を書きなさい。()

資料 5 日本の国家財政における軍事費の割合の推移



(「数字でみる日本の 100 年」より作成)

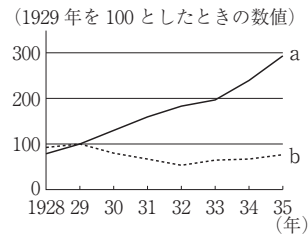


(6) カード F に関連して、芥川龍之介が『羅生門』を発表した大正時代の日本のことがらについて述べた文として最も適当なものを、ア～エから 1 つ選び、記号を書きなさい。()

- ア 高速道路がつくられ、東海道新幹線が開通した。
- イ 新聞にならぶ情報源となるラジオ放送が、東京などで始まった。
- ウ 暦が太陽暦へと変更され、日曜日が休日と定められた。
- エ 葛飾北斎や歌川（安藤）広重が、風景画の優れた作品を残した。

(7) カード G に関連して、右の資料 6 は、アメリカとソ連の鉱工業生産指数を示したものであり、次の文は、両国のそれぞれの経済政策について述べたものである。ソ連を示すグラフと文の組み合わせとして正しいものを、下のア～エから 1 つ選び、記号を書きなさい。()

資料 6 アメリカとソ連の鉱工業生産指数



(「本邦主要経済統計」より作成)

- c 政府が積極的に公共事業をおこすニューディールという政策を行った。
- d 重工業を中心とした工業化と農業の集団化が進められ、「五年計画」とよばれた計画経済を行った。

ア a と c イ a と d ウ b と c エ b と d

名前

/

(8) カードHに関連して、次のア～エは、1945年以降の日本経済に関するできごとである。古い順に並べかえ、記号を書きなさい。(→ → →)

ア 平成不況となり、企業の倒産が増え、失業者が多くなった。

イ 朝鮮戦争が始まると、大量の軍需物資が日本で調達され特需景気（朝鮮特需）となった。

ウ 資金を株や土地に投資したことによって、地価が異常に高くなるバブル経済となった。

エ 第四次中東戦争により、石油価格が大幅に上昇する石油危機（オイル・ショック）がおこった。