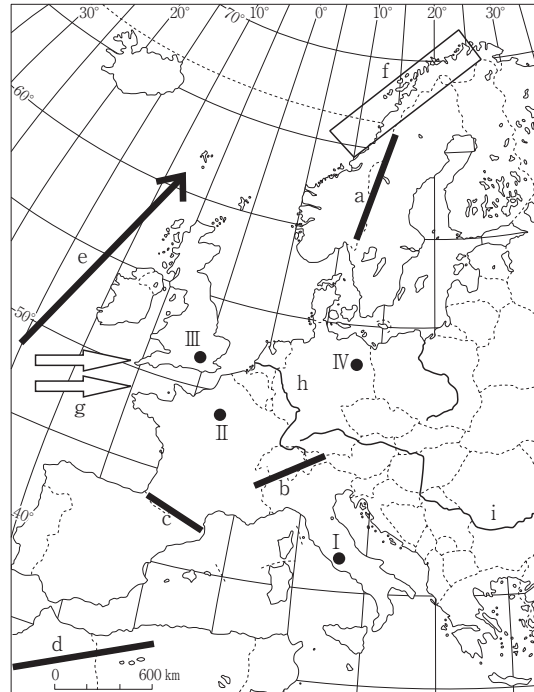


名 前

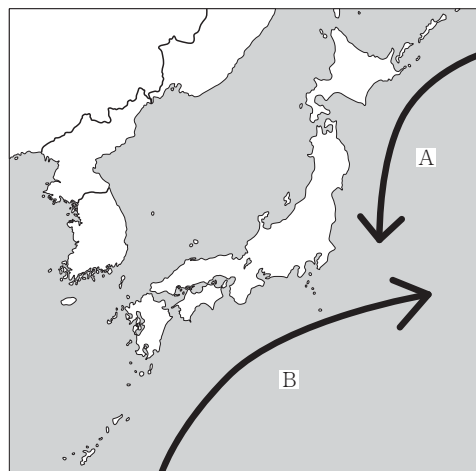
1 次の地図をみて、後の各問いに答えなさい。



問1 地図中 a～d は、いずれも代表的な山脈である。a～d の山脈のうちアルプス・ヒマラヤ造山帯に属していないものを1つ選び、記号で答えなさい。()

問2 地図中 e は、ヨーロッパの気候に大きな影響を与える海流である。

- (1) この海流名を答えなさい。()
- (2) 次の図中 A・B は、日本近海の流れをあらわしている。地図中 e の海流と同様の性質をもつ海流を A・B から1つ選び、その海流名との組み合わせとして正しいものを後の(ア)～(エ)から1つ選び、記号で答えなさい。()



- (ア) A—親潮 (イ) A—黒潮 (ウ) B—親潮 (エ) B—黒潮

名 前

問3 地図中fは、高緯度地方でみられる海岸地形である。

- (1) この海岸地形の名称をカタカナで答えなさい。()
- (2) この海岸地形について説明した次の文X・Yの正誤の組み合わせとして正しいものを下の(ア)～(エ)から1つ選び、記号で答えなさい。()

X この海岸地形は、かつてこの一帯をおおっていた氷河によって削られた地形に海水が侵入して形成された。

Y この海岸地形と同様の地形は、日本の九十九里浜などでもみられる。

- (ア) X—正 Y—正 (イ) X—正 Y—誤 (ウ) X—誤 Y—正
(エ) X—誤 Y—誤

問4 地図中gは、ヨーロッパの気候に大きな影響を与える風である。この風について述べた文として正しいものを次の(ア)～(エ)から1つ選び、記号で答えなさい。()

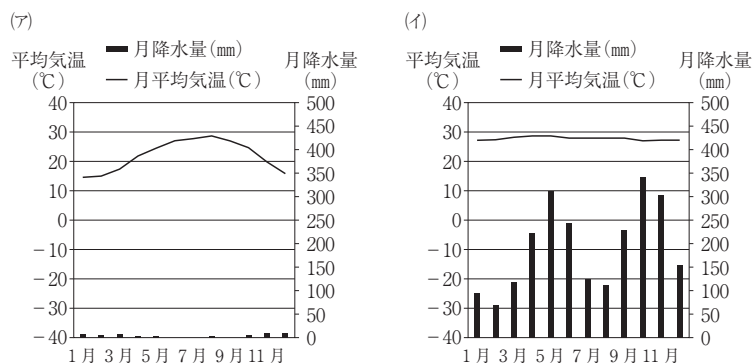
- (ア) この風は、年間を通して決まった方向に吹く西寄りの風であり、この風の影響により、ヨーロッパは高緯度にも関わらず比較的温暖な気候となっている。
- (イ) この風は、特定の地域に限って吹く風であり、この風が吹くとヨーロッパ一帯は高温乾燥となるため、農産物の生育に大きな影響を与える。
- (ウ) この風は、季節によって風向きを変える風であり、夏は西寄りの風となるため、大西洋を経た湿った風が吹くことで、ヨーロッパ一帯は夏季に高温湿潤な気候となる。
- (エ) この風は、季節によって風向きを変える風であり、冬は西寄りの風となるため、大西洋を経た湿った風が吹くことで、冬季に北西ヨーロッパは豪雪地帯となる。

問5 地図中hとiは、ともにヨーロッパを代表する国際河川（複数の国を流れる河川）である。

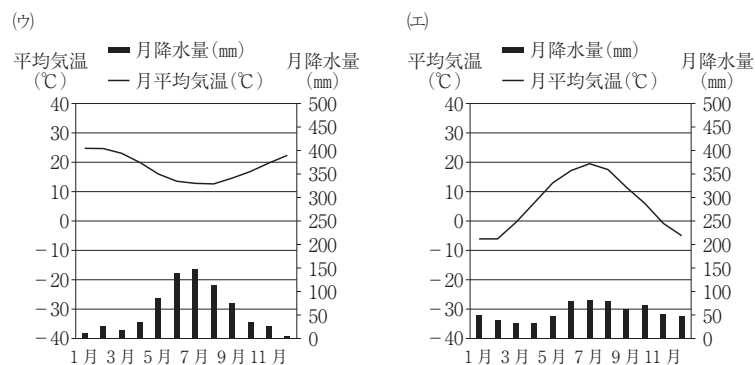
- (1) それぞれの河川名を答えなさい。h () i ()
- (2) 両方の河川が流れている国を次の(ア)～(エ)から1つ選び、記号で答えなさい。()
- (ア) オランダ (イ) ドイツ (ウ) フランス (エ) ルーマニア

問6 地図中I～IVは、それぞれの国の首都である。

- (1) 次の雨温図は、カイロ（エジプト）・コロンボ（スリランカ）・パース（オーストラリア）・モスクワ（ロシア）のいずれかの都市のものである。地図中Iと同じ気候区に属する都市の雨温図として正しいものを次の(ア)～(エ)から1つ選び、記号で答えなさい。()



名 前



(『データブック オブ・ザ・ワールド 2016年版』より作成)

- (2) 次の文は、地図中Ⅰ～Ⅳのいずれかの国の特徴について述べたものである。この説明文の国の首都として正しいものを地図中Ⅰ～Ⅳから1つ選び、記号で答えなさい。またその首都名も答えなさい。(数値は『データブック オブ・ザ・ワールド 2016年版』を参照)

記号() 首都名()

この国の公用語はラテン系の言語であり、宗教としてはキリスト教、特にカトリックを信仰する者が64.0%と最も多い。エネルギー資源は、原子力エネルギーの全体に占める割合が75.4%と多くなっている。またヨーロッパ有数の農業国としても知られ、宇宙・航空機産業が盛んである。首都を中心として有名な観光地を多数かかえるため、観光業も盛んである。